




* 9 M C 3 *

9	M	C	3	(A)
---	---	---	---	---	---	---



↑
請把電腦條碼貼在方格內

教育局
2024 年全港性系統評估
中學三年級數學
答題簿

學生須知：

1. 在本頁的適當位置填寫學校編號、班別及班號。
2. 在第 1 頁及第 3 頁的適當位置貼上電腦條碼。
3. 評估時限為 65 分鐘。
4. 所有答案必須書寫在本答題簿中適當的位置內。
5. 不得在各頁邊界以外位置書寫任何文字、符號。
6. 除特別指明外，數值答案須用真確值，或準確至三位有效數字的近似值表示。
7. 可使用香港考試及評核局核准之計算機。
8. 算草應做在草稿紙上。

學校編號

S			
---	--	--	--

班別

3	
---	--

班號

--	--

↑
此格只許填寫一個大楷英文字母

甲部：多項選擇題

多項選擇題 - 選出正確的答案，並用 **HB 鉛筆** 把該選項的圓圈塗黑和塗滿，如：

A	B	C	D
<input checked="" type="radio"/>	<input type="radio"/>	<input type="radio"/>	<input type="radio"/>

1. A B C D
2. A B C D
3. A B C D
4. A B C D
5. A B C D
6. A B C D
7. A B C D
8. A B C D
9. A B C D
10. A B C D

請勿在此書寫。

請勿在此書寫。

請把電腦條碼貼在方格內 →

請勿在此書寫。

11. A B C D

12. A B C D

13. A B C D

14. A B C D

15. A B C D

16. A B C D

17. A B C D

18. A B C D

19. A B C D

20. A B C D

請勿在此書寫。

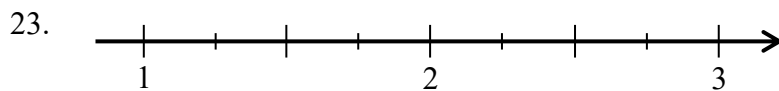


乙部： 答案須寫在預留的位置內。 無須列出算式。

21. (i) _____ 表示有 8 000 名遊客進入城市 A。

(ii) _____ 表示有 2 000 名遊客離開城市 B。

22. _____



24. 該平板電腦的售價是 _____ 。

25. $x =$ _____

26. _____

27. _____

28. _____

29. _____

30. _____

31. $x =$ _____

請勿在此書寫。

請勿在此書寫。

32. $x =$ _____

33. _____

34. $AB =$ _____ 單位

35. $\theta =$ _____

36.

表一	
掌上壓的次數	頻數
0 – 19	
20 – 39	7
40 – 59	

表二	
掌上壓的次數	頻數
0 – 11	
12 – 23	2
24 – 35	
36 – 47	
48 – 59	5

37. (a) 該店舖上周賣出食物盒的總盈利是 _____ 元。

(b) 該店舖上星期四每個賣出的食物盒平均盈利是 _____ 元。

38. 平均數 = _____

中位數 = _____

39. 該 30 部平板電腦售價的眾數組是 \$ _____ - \$ _____ 。

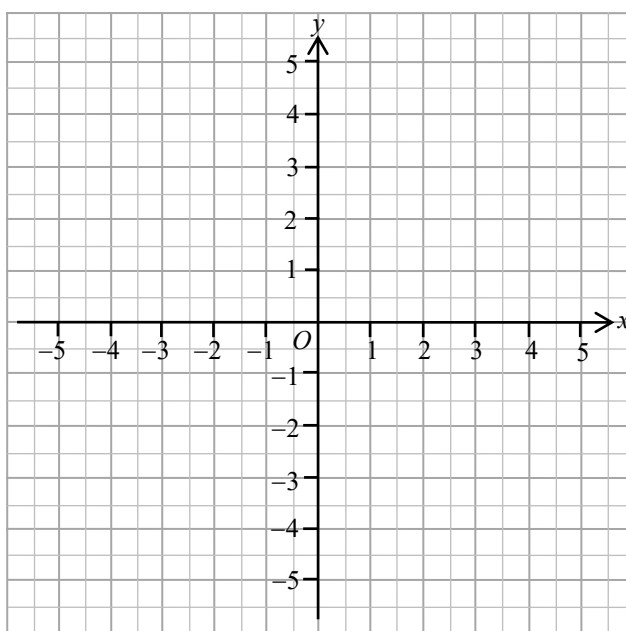
丙部：在預留的空位內作答。必須清楚列寫算式及題解。

40.

41.

$$3x - 4y - 8 = 0$$

x	-4	0	4
y		-2	



42.

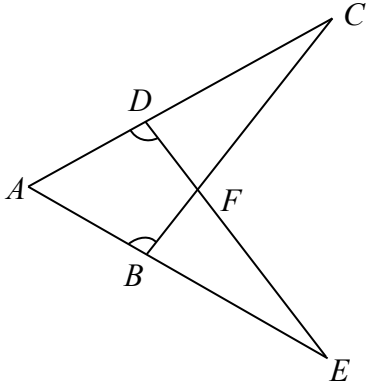
請勿在此書寫。

請勿在此書寫。

請勿在此書寫。

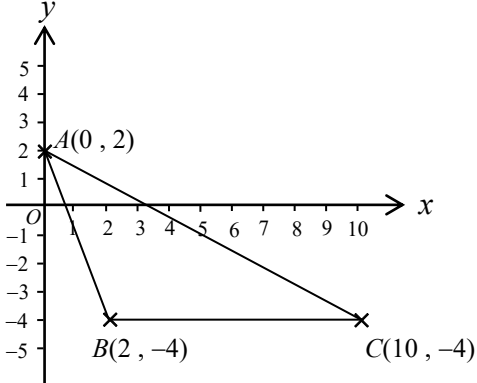
43.

44.



請勿在此書寫。

45.



請勿在此書寫。

46.

請勿在此書寫。

47. (a)

第二題

		A	B	C
第一題	A		AB	AC
	B	BA		BC
	C	CA	CB	

(b) 家強最少答對一題的概率是 _____。

全卷完